



Express each number using tally marks.

1) 56 _____

2) 62 _____

3) 23 _____

4) 69 _____

5) 49 _____

6) 60 _____

7) 28 _____

8) 25 _____

9) 16 _____

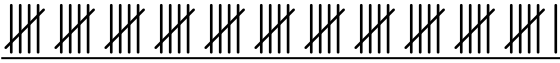
10) 93 _____


11) 61 _____

12) 27 _____



Express each number using tally marks.

1) 56 

2) 62 

3) 23 


4) 69 


5) 49 

6) 60 

7) 28 

8) 25 

9) 16 

10) 93 

11) 61 

12) 27 