



Determine if the angle shown is 'less', 'more' or 'equal' to 90°.

Answers

Ex)



1)



2)



Ex. **equal**

1. _____

2. _____

3)



4)



5)



3. _____

4. _____

5. _____

6)



7)



8)



6. _____

7. _____

9)



10)



11)



8. _____

9. _____

10. _____

12)



13)



14)



11. _____

12. _____

13. _____

15)



16)



17)



14. _____

15. _____

16. _____

18)



19)



20)



17. _____

18. _____

19. _____

20. _____



Determine if the angle shown is 'less', 'more' or 'equal' to 90° .

Ex)



1)



2)

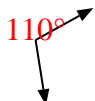


Ex.

Answers

equal

3)



4)



5)



1.

more

2.

less

3.

more

4.

less

5.

less

6)



7)



8)



6.

more

7.

equal

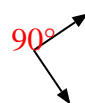
9)



10)



11)



8.

more

9.

equal

10.

less

11.

equal

12)



13)



14)



12.

less

13.

less

15)



16)



17)



14.

more

15.

less

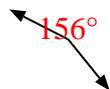
16.

equal

18)



19)



20)



17.

equal

18.

less

19.

more

20.

equal